

10001

Шифр

Школьный этап Всероссийской олимпиады школьников
по ОБЖ в 2022-2023 учебном году

« 28 » 09 2022 г.

Фамилия, имя,
отчество
участника
(полностью
печатными буквами)

Кириченко
Анна
Александровна

Дата рождения

14.04.2006

Класс

10

Район (город)

Аургазинский

Школа

с. Степановка

Телефон

89373470213

Электронная
почта

anna.kirichenko875@gmail.com

Фамилия, имя,
отчество учителя
(полностью
печатными буквами)

БЕРЕЖНОЙ
АНДРЕИ
НИКОЛАЕВИЧ

ВСЕРОССИЙСКАЯ ОЛИМПИАДА ШКОЛЬНИКОВ ПО ОСНОВАМ БЕЗОПАСНОСТИ
ЖИЗНЕДЕЯТЕЛЬНОСТИ (ШКОЛЬНЫЙ ЭТАП)

ТЕОРЕТИЧЕСКИЙ ТУР

старшая возрастная группа (10-11 классы)

Кол/шифр участника

1	0	0	1
---	---	---	---

Уважаемый участник Олимпиады!

Вам предстоит выполнить теоретические (письменные) и тестовые задания.

Время выполнения заданий теоретического тура 2 - академических часа (90 минут).

Выполнение теоретических (письменных) заданий целесообразно организовать следующим образом:

- не спеша, внимательно прочитайте задание и определите, наиболее верный и полный ответ;
- отвечая на теоретический вопрос, обдумайте и сформулируйте конкретный ответ только на поставленный вопрос;
- если Вы отвечаете на задание, связанное с заполнением таблицы или схемы, не старайтесь детализировать информацию, вписывайте только те сведения или данные, которые указаны в вопросе;

- особое внимание обратите на задания, в выполнении которых требуется выразить Ваше мнение с учетом анализа ситуации или поставленной проблемы. Внимательно и вдумчиво определите смысл вопроса и логику ответа (последовательность и точность изложения). Отвечая на вопрос, предлагайте свой вариант решения проблемы, при этом ответ должен быть кратким, но содержать необходимую информацию;

- после выполнения всех предложенных заданий еще раз удостоверьтесь в правильности выбранных Вами ответов и решений.

Выполнение тестовых заданий целесообразно организовать следующим образом:

- не спеша, внимательно прочитайте тестовое задание;
- определите, какой из предложенных вариантов ответа наиболее верный и полный;
- обведите кружком букву, соответствующую выбранному Вами ответу;
- продолжайте таким образом работу до завершения выполнения тестовых заданий;
- после выполнения всех предложенных заданий еще раз удостоверьтесь в правильности выбранных Вами ответов;

- если потребуется корректировка выбранного Вами варианта ответа, то неправильный вариант ответа зачеркните крестиком, а новый выбранный ответ обведите кружком.

Предупреждаем Вас, что:

- при оценке тестовых заданий, где необходимо определить один правильный ответ, 0 баллов выставляется как за неверный ответ, а также, если участником отмечены несколько ответов (в том числе правильный), или все ответы;
- при оценке тестовых заданий, где необходимо определить все правильные ответы, 0 баллов выставляется, если участником отмечено большее количество ответов, чем предусмотрено в задании (в том числе правильные ответы) или все ответы.

Задание теоретического тура считается выполненным, если Вы вовремя съездете его членам жюри. Максимальная оценка - 90 баллов.

Желаем вам успеха!

Общая оценка результата выполнения участником заданий теоретического тура

баллов

52

Председатель жюри Артёмов А.И.

46 + 28 = 74

МОДУЛЬ 1

Задание 1. С целью облегчения поиска людей, попавших в опасную ситуацию целесообразно применять Международную кодовую таблицу воздушных сигналов «Земля-Воздух». Её знаки могут быть выложены с помощью подручных средств (снаряжение, одежда, камни, деревья), непосредственно людьми, которые должны лечь на землю, снег, лёд, или вытоптаны на снегу.

Установите соответствие между сигналами и их значениями. Запишите в таблицу выбранные цифры под соответствующими буквами.

А	Б	В	Г	Д
1	2	3	4	5
Здесь можно послать	Не посыл	Нужна пища и вода	Нужен врач — серьезные телесные повреждения	Требуется карта и компас

Сигнал	Значение
1	Здесь можно послать
2	Не посыл
3	Нужна пища и вода
4	Нужен врач — серьезные телесные повреждения
5	Требуется карта и компас

А	Б	В	Г	Д
4	5	2	3	1

Оценочные баллы: максимальные - 15 баллов; фактические - 6 баллов.



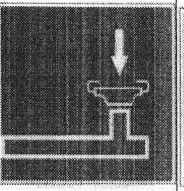

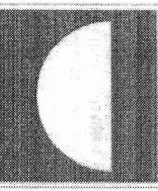
Задание 2. В предложенном тексте из Конституции РФ допишите пропущенные слова:

Все равны перед законом судом Государство гарантирует равенство прав и свобод человека и гражданина независимо от пола, расы, национальности, языка, происхождения, имущественного и должностного положения, места жительства, отношения к религии, убеждений, принадлежности к общественным объединениям, а также других обстоятельств. Запрещаются любые формы ограничения прав граждан по признакам социальной, расовой, национальной, языковой или религиозной принадлежности.

Мужчина и женщина имеют равные права и свободы и равные возможности для их реализации.

Оценочные баллы: максимальные - 15 баллов; фактические - 15 баллов.

Задание 3. Укажите стрелками соответствие между знаками и их названиями.

				
+	+	+	+	+
Пожарный сухотрубный стояк	Пожарный кран	Место размещения нескольких средств противопожарной защиты	Пожарная лестница	Пожарный водосточник

(Handwritten blue arrows connect the signs to their descriptions: Fire extinguisher to Fire alarm, Fire escape to Fire hose, Fire alarm to Fire escape, Fire hose to Fire exit, Fire exit to Fire extinguisher.)

Оценочные баллы: максимальные - 10 баллов; фактические - 10 баллов.

Задание 4. Дома, Вам часто приходится иметь дело с препаратами бытовой химии. Соотнесите средства бытовой химии по степени опасности и выпишите в таблицу: *растворители, пестициды, отбеливающие средства, чистящие средства, средства в аэрозольной упаковке, средства для подкрашивания, гербициды, дезинфицирующие средства, средства для подсиживания.*

Пожароопасные	<i>растворители</i>
Ядовитые	<i>Лесничкода, гербицида</i>
Относительно безопасные	<i>отбеливающие ср., дезинфицирующие</i>
Безопасные	<i>средства для подкрашивания</i>

Оценочные баллы: максимальные - 10 баллов; фактические - 7 баллов.






Задание 5. В результате пожара в жилом доме, выбравшись из горящего дома, мужчина средних лет получил ожоговую травму. Пострадавший в сознании. Жалуется на сильные боли в ожоговых ранах. Кожные покровы правого предплечья и кисти покрасневшие, покрыты пузырями, заполненными прозрачной жидкостью.

а) Какой вид повреждения у пострадавшего? *2 ст. ртн*

б) Напишите алгоритм оказания помощи.

Оценочные баллы: максимальный - 10 баллов; фактический - 2 балла

Задание 6. Установите соответствие между погонами и званиями в армии Российской Федерации. Запишите напротив изображения погонов соответствующее звание.

	лейтенант
	сержант
	сержант
	прапорщик
	

Оценочные баллы: максимальные - 10 баллов; фактические - 6 баллов.

Задание 7. Впишите примеры чрезвычайной ситуации в зависимости от их видов.

Виды ЧС	Примеры
ЧС природного характера	
ЧС техногенного характера	
ЧС социального характера	
ЧС биолого-социального характера	

Оценочные баллы: максимальные - 10 баллов; фактические - ___ баллов.

Итого максимальный балл по первому модулю - 80 баллов.

468

МОДУЛЬ 2 ТЕСТОВЫЕ ЗАДАНИЯ

№ п/п	Тестовое задание	Макс. балл	Кол-во набранных баллов
	Выберите правильный ответ		
1	Какой признак указывает на повреждение спинного мозга при травме позвоночника? а) рана в области позвоночника; б) кровоизлияние в области позвоночника; в) резкая боль в области позвоночника; г) отсутствие движения в конечностях ниже места повреждения.	2	+
2	Бессознательное состояние, кровотоечение из носа и ушей являются характерными признаками перелома а) верхней челюсти; б) шейных позвонков; в) свода черепа; г) костей основания черепа.	2	-
3	Ликвидацию ЧС считать можно завершённой после: а) локализации пожаров; б) проведения аварийно-спасательных работ; в) дезактивации зданий и сооружений; г) определения ущерба и числа жертв.	2	-
4	Дыхательный центр расположен: а) в коре больших полушарий; б) в продолговатом мозге; в) в бронхах; г) в легких.	2	-
5	Что является началом военной службы для граждан, проходящих ее по призыву? а) день прибытия в воинскую часть для прохождения военной службы; б) день убытия из военного комиссариата к месту прохождения военной службы; в) день зачисления в списки воинской части; г) день принятия военной присяги.	2	+
6	Как расшифровывается аббревиатура МЧС России? а) Министерство Российской Федерации по делам гражданской обороны, чрезвычайным ситуациям и ликвидации последствий стихийных бедствий; б) Министерство Российской Федерации по делам гражданской защиты, чрезвычайным последствиям и ликвидации стихийных бедствий; в) Министерство Российской Федерации по делам народной дружины, чрезвычайным стихийным бедствиям и ликвидации последствий; г) Министерство Российской Федерации по делам гражданской защиты, ликвидации последствий стихийных бедствий и чрезвычайных ситуаций.	2	-
7	Какой из видов раны описан в следующем примере: «Этот вид раны имеет сложную форму, неровные края, пропитанные кровью»: а) огнестрельная рана; б) колотая рана; в) укушенная рана; г) рваная рана.	2	-

8	Укажите вид Вооружённых Сил Российской Федерации? а) воздушно-космические силы; б) ракетные войска стратегического назначения; в) воздушно-десантные войска; г) военно-космические войска	2	-
9	На сколько градусов за два часа уклоняется солнце? а) 30; б) 15; в) 20; г) 45.	2	+2
10	Очаг химического заражения – это: а) территория, в пределах которой в результате воздействия химических веществ, произошли массовые поражения людей, сельскохозяйственных животных и растений; б) территория, в пределах которой распространилось химическое заражение окружающей среды; в) территория, в пределах которой распространились концентрации химических веществ выше пороговых.	2	-
Выберите все правильные ответы			
11	Причинами отравления лекарствами могут быть: а) прием препаратов, рекомендованных врачом; б) использование лекарств с истекшим сроком годности; в) передозировка препарата свыше допустимой; г) прием препарата, рекомендованного знаковыми, согласно инструкции.	4	+4
12	Кто входит в состав суточного наряда роты? а) караул; б) дежурный по столовой; в) дневальные по роте; г) дежурный по роте.	4	+2
13	К инфекциям дыхательных путей относятся: а) грипп; б) скарлатина; в) дизентерия; г) чесотка; д) менингит.	4	+4
14	Укажите функции жиров, поступающих с пищей в организм человека. а) пластическая и энергетическая; б) защитная и транспортная; в) защитная и энергетическая; г) транспортная и пластическая; д) выводящая и энергетическая.	4	-
15	Какие узлы предназначены для связывания двух веревок? а) булин; б) встречный; в) академический; г) питона.	4	+2
16	Какой сигнальный цвет и какую геометрическую форму имеют запрещающие знаки безопасности? а) красный; б) треугольник; в) квадрат; г) желтый; д) круг с поперечной полосой.	4	+2
17	Опасными метеорологическими явлениями считаются	4	

	а) цунами; б) сильный ветер; в) шторм; г) затоп; д) сель.		+2
18	Признаками приближающегося землетрясения могут быть следующие явления? а) резкое изменение погодных условий; б) самовозгорание горючих веществ и материалов; в) запах газа в районах, где раньше этого не отмечалось; г) беспокойное поведение животных; д) внезапный отлив	4	+2
19	Средства подачи сигналов бедствия по принципу передачи сигнала делятся на: а) табельные; б) звуковые; в) визуальные; г) подручные.	4	+2
20	Определите, какие из перечисленных НЕ являются основными принципами безопасности дорожного движения, определенными федеральным законом «О безопасности дорожного движения»: а) приоритет общественного транспорта перед личным автотранспортом граждан, участвующих в дорожном движении; б) приоритет жизни и здоровья граждан, участвующих в дорожном движении, над экономическими результатами хозяйственной деятельности; в) приоритет ответственности государства за обеспечение безопасности дорожного движения над ответственностью граждан, участвующих в дорожном движении; г) соблюдение, прежде всего, интересов владельцев автотранспортных средств как главных участников дорожного движения; д) соблюдение интересов граждан, общества и государства при обеспечении безопасности дорожного движения.	4	+2

Итого максимальный балл по второму модулю - 120 баллов.

285